

Name: _____

Klasse: _____

Forscherblatt



Name des Versuchs: _____




Bild 1: _____






Bild 2: _____



Das habe ich beobachtet



Wenn ich Asche auf ein Kohlblatt streue und es dann mit Wasser betropfe, dann

Wenn ich Nagellack auf einem Kohlblatt verreihe, Asche darauf streue und es dann mit Wasser betropfe, dann _____

Wenn ich Spülmittel auf einem Kohlblatt verreihe, Asche darauf streue und es dann mit Wasser betropfe, dann

Das weiß ich jetzt:

Die Blätter des Kohlrabis zeigen einen _____. Die Erklärung ist, dass die Blätter des _____ im Gegensatz zu den Salatblättern _____ und _____ sind.

Durch das _____ wird die Oberflächenspannung des _____ zerstört. Die _____ zerfließen.

Kohl, Spülmittel, rau, wasserabweisend,
Wassers, Wassertropfen,
Selbstreinigungseffekt